



Chapitre 13. Continuité des fonctions réelles d'une variable réelle

Ce chapitre présente, en plus de résultats bien connus mais énoncés ici avec rigueur, les outils nécessaires à l'étude *qualitative* des fonctions à valeurs réelles définies sur un intervalle, ainsi que des applications importantes (notamment pour l'étude des suites récurrentes ou implicites). Dans tout le chapitre, on considère un intervalle I de \mathbb{R} et une fonction $f : I \rightarrow \mathbb{R}$.

1 Continuité

1.1 Continuité en un point

Définition 1. Soient $x_0 \in \mathbb{R}$ et f une fonction définie au voisinage de x_0 . On dit que f est **continue** en x_0 si f est définie en x_0 et $\lim_{x \rightarrow x_0} f(x) = f(x_0)$.

☞ Si f n'est pas continue en x_0 , on dit que f est **discontinue** en x_0 ou que x_0 est un **point de discontinuité** de f .

Définition 2. Sous les mêmes hypothèses que précédemment :

- On dit que f est **continue à gauche** en x_0 si et seulement si f est définie en x_0 et $\lim_{x \rightarrow x_0^-} f(x) = f(x_0)$.
- On dit que f est **continue à droite** en x_0 si et seulement si f est définie en x_0 et $\lim_{x \rightarrow x_0^+} f(x) = f(x_0)$.

Proposition 1. Soient $f : I \rightarrow \mathbb{R}$ et $x_0 \in I$.

- (1) Si x_0 n'est pas une extrémité de I , alors on a l'équivalence :
 f est continue en x_0 si et seulement si f est continue à gauche et à droite en x_0 .
- (2) Si x_0 est l'extrémité gauche (resp. droite) de I , alors on a l'équivalence :
 f est continue en x_0 si et seulement si f est continue à droite (resp. à gauche) en x_0 .

Exercice 1.

- (1) Étudier la continuité en 3 de la fonction f définie par :

$$f : \mathbb{R}_+ \rightarrow \mathbb{R} \\ x \mapsto \begin{cases} \frac{\sqrt{x+1}-2}{x-3} & \text{si } x \in [0, 3[\cup]3, +\infty[\\ \frac{1}{4} & \text{si } x = 3 \end{cases}$$

(2) Étudier la continuité en 0 de la fonction f définie par :

$$f : \mathbb{R} \rightarrow \mathbb{R} \\ x \mapsto \begin{cases} x & \text{si } x \leq 0 \\ \frac{1}{x}e^{-\frac{1}{x}} & \text{si } x > 0 \end{cases}$$

Définition 3. Soit I un intervalle de \mathbb{R} , soit $x_0 \in I$ et soit f définie sur $I \setminus \{x_0\}$. On dit que f est **prolongeable par continuité** en x_0 lorsque f admet une limite finie en x_0 . L'application

$$\tilde{f} : I \rightarrow \mathbb{R} \\ x \mapsto \begin{cases} f(x) & \text{si } x \neq x_0 \\ \lim_{x \rightarrow x_0} f(x) & \text{si } x = x_0 \end{cases}$$

est appelée le **prolongement par continuité** de f en x_0 .

Remarque 1.

- La fonction \tilde{f} est évidemment continue en x_0
- Par abus de notation, la fonction \tilde{f} est parfois notée f .
- On définit de même la notion de prolongement à gauche et à droite.

Exercice 2.

- (1) La fonction $f : \mathbb{R}^* \rightarrow \mathbb{R}$, $x \mapsto \frac{e^x - 1}{x}$ est-elle prolongeable par continuité en 0?
- (2) La fonction $g :]0, +\infty[\rightarrow \mathbb{R}$, $x \mapsto x \ln(x)$ est-elle prolongeable par continuité en 0?
- (3) La fonction $h : \mathbb{R}^* \rightarrow \mathbb{R}$, $x \mapsto x \left\lfloor \frac{1}{x} \right\rfloor$ est-elle prolongeable par continuité en 0?

1.2 Continuité et limite des suites

La continuité d'une fonction en un point, précédemment définie à l'aide des quantificateurs, peut se reformuler à l'aide des suites. Dire qu'on se rapproche arbitrairement de a peut se faire à l'aide d'une suite dont la limite est a . Plus précisément, on a le résultat suivant:

Théorème 1 (Caractérisation séquentielle de la continuité).

Soit f une fonction définie au voisinage de a . Les assertions suivantes sont équivalentes.

- f est continue en a ;
- Pour toute suite numérique (a_n) (dont les termes appartiennent au voisinage de a à partir d'un certain rang) qui converge vers a , on a que la suite $(f(a_n))$ converge vers $f(a)$.

Exercice 3. Soit $f : \mathbb{R} \rightarrow \mathbb{R}$ une fonction continue et périodique admettant une limite finie en $+\infty$. Montrer que f est constante.

1.3 Continuité sur un intervalle. Opérations sur les fonctions continues

Définition 4. On dit qu'une fonction f est continue sur l'intervalle I si f est continue en tout point de I .

Proposition 2 (Opérations sur les fonctions continues). Soient f et g deux fonctions définies au voisinage d'un point x_0 , élément d'un intervalle I .

- (1) Soit $\lambda \in \mathbb{R}$. Si f et g sont continues en x_0 (resp. sur I), alors $f + g$, $f \times g$ et λf sont continues en x_0 (resp. sur I);
- (2) Si f et g sont continues en x_0 et que $g(x_0) \neq 0$ (resp. continues sur I et que $g(x) \neq 0$ pour tout $x \in I$), alors $1/g$ et f/g sont continues en x_0 (resp. sur I).
- (3) Si f est continue en x_0 et que g est (définie au voisinage de et) continue en $f(x_0)$, alors, $g \circ f$ est continue en x_0 .

Le dernier point de la proposition précédente est un cas particulier du résultat plus général suivant:

Proposition 3. Si f est continue sur un intervalle I et si g est continue sur un intervalle J tel que $f(I) \subset J$, alors $g \circ f$ est continue sur I .

Exemple. La fonction

$$f: \mathbb{R} \rightarrow \mathbb{R} \\ x \mapsto \ln(1+x^2)$$

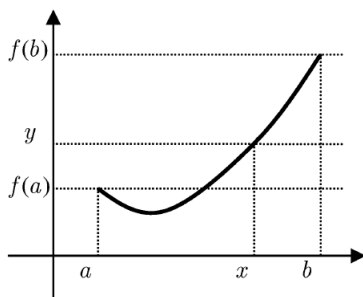
est continue sur \mathbb{R} .

1.4 Image d'un intervalle par une fonction continue

Théorème 2 (Théorème des valeurs intermédiaires).

Soient a et b des réels tels que $a < b$ et $f: [a; b] \rightarrow \mathbb{R}$.

Si f est continue sur l'intervalle $[a; b]$, alors pour tout réel y compris entre $f(a)$ et $f(b)$, il existe $x \in [a; b]$ tel que $f(x) = y$.



☞ L'équation $f(x) = y$ d'inconnue x admet au moins une solution dans l'intervalle $[a; b]$.

Corollaire 1. L'image d'un intervalle par une fonction continue est un intervalle; si f est continue sur un intervalle I , alors $f(I)$ est un intervalle.

⚠ **Attention.** Les intervalles I et $f(I)$ ne sont pas nécessairement de même nature. Par exemple, si f est la fonction définie par $f(x) = 1/(1+x^2)$, alors $f(\mathbb{R}) =]0; 1]$.

Proposition 4.

- (1) Soit $a, b \in \mathbb{R}$ avec $a < b$. Si f est continue sur $[a; b]$ telle que $f(a) \times f(b) \leq 0$ alors f s'annule au moins une fois sur $[a; b]$.
- (2) Toute fonction polynomiale de degré impair s'annule au moins une fois sur \mathbb{R} .

☞ Ce résultat est à la base du principe de *dichotomie* que nous utiliserons avec SciLab pour trouver des approximations de solutions de $f(x) = 0$.

Exercice 4. Montrer que l'équation $xe^x = 1$ admet (au moins) une solution dans l'intervalle $[0; 1]$.

On a vu que, de manière générale, la continuité ne préservait pas la nature d'un intervalle. Si cet intervalle est fermé borné, c'est par contre le cas.

Un **segment** est un intervalle fermé borné, c'est à dire un intervalle de la forme $[a; b]$ avec $a \in \mathbb{R}$ et $b \in \mathbb{R}$.

Proposition 5. L'image d'un segment par une fonction continue est un segment; si f est continue sur un segment $[a; b]$, alors $f([a; b]) = [m; M]$ est un segment.

⚠ Les extrémités du segment image ne sont pas forcément les images des extrémités de $[a; b]$.

Proposition 6.

- (1) Si f est une fonction continue et croissante sur un segment $[a; b]$, alors $f([a; b]) = [f(a), f(b)]$.
- (2) Si f est une fonction continue et décroissante sur $[a; b]$, alors $f([a; b]) = [f(b), f(a)]$.

☞ Dans la Proposition 5, m est le minimum de la fonction sur $[a; b]$ et M son maximum. On note

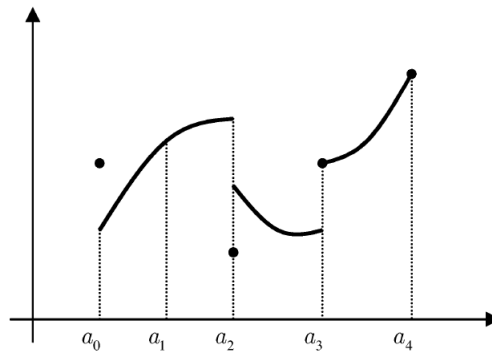
$$m = \min_{[a; b]} f \quad \text{et} \quad M = \max_{[a; b]} f.$$

Théorème 3. Soit f une fonction continue sur un segment $[a, b]$, alors f est bornée sur $[a, b]$ et atteint ses bornes.

1.5 Fonctions continues par morceaux

Définition 5. Une fonction f est dite morceaux sur le segment $[a; b]$ si il existe une subdivision $a_0 = a < a_1 < \dots < a_n = b$ telle que la restriction de f à chaque intervalle ouvert $]a_i; a_{i+1}[$ admette un prolongement continu à l'intervalle fermé $[a_i; a_{i+1}]$. Plus précisément, si

- f est continue sur chaque $]a_i; a_{i+1}[$;
- f admet une limite à droite et à gauche (non nécessairement égales et potentiellement distinctes de la valeur de f) en chaque a_i .



☞ Les fonctions "en escalier" (et notamment la fonction partie entière) sont des fonctions continues par morceaux.

Proposition 7. Soient $f, g : [a; b] \rightarrow \mathbb{R}$ deux fonctions continues par morceaux et $\lambda \in \mathbb{R}$. Alors, λf , $f + g$, fg et $|f|$ sont continues par morceaux.

Exercice 5. Soit $f : [a; b] \rightarrow \mathbb{R}$ continue par morceaux. Montrer que f est bornée sur $[a; b]$.

1.6 Théorème de la bijection

Proposition 8. Soient a et b deux réels tels que $a < b$.

Si la fonction f est continue et strictement monotone sur $[a, b]$, alors pour tout réel k compris entre $f(a)$ et $f(b)$, il existe un unique $c \in [a, b]$ tel que $f(c) = k$.

Autrement dit, l'équation $f(x) = k$ d'inconnue x admet une unique solution dans l'intervalle $[a, b]$.

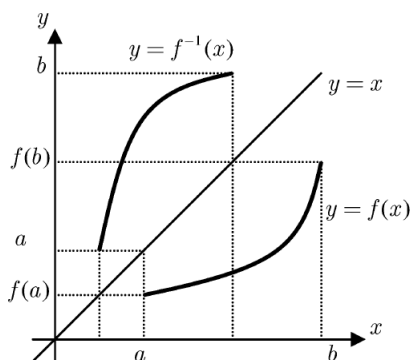
Exercice 6. Montrer que l'équation $x^3 + x = 3$ admet une unique solution α dans l'intervalle $[1, 2]$.

Théorème 4 (de la bijection).

Soit I un intervalle de \mathbb{R} et f une application **continue et strictement monotone** sur I . Alors, f réalise une bijection de I sur son image $f(I)$. En particulier,

- $f(I)$ est un intervalle, noté J
- $f : I \rightarrow J$ est une bijection de I sur J
- $f^{-1} : J \rightarrow I$ est strictement monotone, de même monotonie que f .
- $f^{-1} : J \rightarrow I$ est continue de J sur I .

☞ Les graphes de f et f^{-1} sont **symétriques** par rapport à la droite d'équation $\Delta : y = x$.



Exercice 7. Soit $f : [0, +\infty[\rightarrow \mathbb{R}$ la fonction définie par :

$$\forall x \in [0, +\infty[, \quad f(x) = \frac{2x^2}{1+x}$$

- (1) Démontrez que f réalise une bijection de $[0, +\infty[$ sur un intervalle J que vous explicitez.
- (2) Soit $g : J \rightarrow [0, +\infty[$ l'application réciproque de f . Dressez le tableau de variation de g en précisant les limites de g aux bornes de J .
- (3) Etudiez la limite $\lim_{x \rightarrow +\infty} \frac{g(x)}{x}$.

2 Principe de dichotomie

La méthode de **dichotomie** est, en mathématiques, un algorithme de recherche d'un zéro d'une fonction qui consiste à répéter des partages d'un intervalle en deux parties puis à sélectionner le sous-intervalle dans lequel existe un zéro de la fonction.

Ainsi, si $f(a)$ et $f(b)$ sont de signes contraires, on sait qu'il existe au moins une solution à $f(x) = 0$ dans l'intervalle $[a; b]$ mais on ne sait pas où. La méthode de dichotomie consiste à diviser l'intervalle en deux en calculant le milieu

$$c = \frac{a+b}{2}.$$

Il y a maintenant deux possibilités :

- Ou bien $f(a)$ et $f(c)$ sont de signes contraires et la solution cherchée est donc dans l'intervalle $[a; c]$;
- Ou bien cela se passe entre c et b .

Pour obtenir une valeur approchée de α à ϵ près, on construit donc une suite d'intervalles $[a_n; b_n]$ dont la longueur est divisée par deux à chaque étape et qui contiennent tous α . Quand la longueur de l'intervalle $[a_n; b_n]$ est plus petite que ϵ , on s'arrête et le milieu de l'intervalle fournit alors une valeur approchée de α à ϵ près.

On part du principe que ni a ni b n'est solution de l'équation...

Plus précisément, on construit trois suites (a_n) , (b_n) et (c_n) selon le procédé suivant:

$$\begin{cases} a_0 = a \\ b_0 = b \\ c_0 = \frac{a+b}{2} \end{cases}$$

Puis, supposant a_n, b_n et c_n construits, on définit les termes successifs de la manière suivante:

- Si $f(a_n)f(c_n) = 0$, alors $\alpha = c_n$;
- Si $f(a_n)f(c_n) < 0$, alors $a_{n+1} = a_n$ et $b_{n+1} = c_n$;
- Si $f(a_n)f(c_n) > 0$, alors $a_{n+1} = c_n$ et $b_{n+1} = b_n$.

Enfin,

$$c_{n+1} = \frac{a_{n+1} + b_{n+1}}{2}.$$

- (1) Que vaut $b_n - a_n$? En déduire que pour toute précision (arbitrairement petite) $\epsilon > 0$, il existe un rang n pour lequel la longueur de l'intervalle contenant α est plus petite que ϵ .
- (2) Écrire une fonction `dichotomie()` prenant en argument une fonction f , les extrémités a et b de l'intervalle de recherche et la précision ϵ et renvoyant une valeur approchée à ϵ près de α .
- (3) Utiliser le programme pour déterminer une valeur approchée à 10^{-4} près de la solution de l'équation

$$x + \ln(x) = 2.$$

3 Étude des suites implicites

Comme on l'a vu au cours du Chapitre 3 (et dans quelques exercices), une suite peut être définie implicitement, c'est à dire comme solution d'une certaine équation. Le théorème de la bijection permet d'étudier (et d'assurer l'existence des termes) de telles suites.

☞ Il est capital de retenir que pour obtenir des encadrement (notamment pour la monotonie) sur les termes d'une suite implicite (u_n) de la forme $f(u_n) = a_n$, on obtient des encadrements sur les images et on revient ensuite aux antécédents en utilisant le sens de variations de f^{-1} .

Exercice 8. (D'après **ECRICOME 1996**)

On considère l'équation $(E_n) : \ln(x) + x = n$ et la fonction $f : x \mapsto \ln(x) + x$.

- (1) Montrer que f réalise une bijection de \mathbb{R}_+^* sur \mathbb{R} .
- (2) Montrer que, pour tout entier $n \geq 1$, (E_n) admet une unique solution x_n . Montrer alors que la suite (x_n) est strictement croissante.
- (3) (a) Montrer que, pour tout $x > 0$, $\ln(x) < x$.
 (b) En déduire que, pour tout entier $n \geq 1$, $\frac{n}{2} \leq x_n \leq n$.
 (c) En déduire la limite de la suite (x_n) .
- (4) Montrer que $\frac{\ln(x_n)}{n} \rightarrow 0, n \rightarrow +\infty$. En déduire que $\frac{x_n}{n} \rightarrow 1, n \rightarrow +\infty$.

4 Autres exercices

Exercice 9. (DM 7, Hiver 2018) On considère la fonction g définie par

$$g(x) = \frac{1}{\ln|x|}.$$

- (1) Quel est l'ensemble de définition de g ?
- (2) Peut-on prolonger g par continuité?

Exercice 10. (DM 11, Hiver 2016)

- (1) Discuter en fonction des paramètres $a, b \in \mathbb{R}$ si la fonction f suivante, définie sur $\mathbb{R} \setminus \{1\}$, se prolonge à \mathbb{R} tout entier.

$$f(x) = \begin{cases} \frac{a(e^{x-1} - 1)}{x - 1}, & \text{si } x < 1 \\ \frac{\sqrt{6x - 5} - b}{x - 1}, & \text{si } x > 1 \end{cases}.$$

- (2) Soient $a, b > 0$. Étudier et déterminer, si elles existent, les limites en 0 des fonctions

$$x \mapsto \frac{x}{a} \left\lfloor \frac{b}{x} \right\rfloor, \quad x \mapsto \left\lfloor \frac{x}{a} \right\rfloor \frac{b}{x}.$$

Exercice 11. Soit f une fonction définie sur \mathbb{R} , minorée par 1 et majorée par 2. Étudier

$$\lim_{x \rightarrow +\infty} \frac{f(x)}{x}; \quad \lim_{x \rightarrow \pm\infty} xf(x); \quad \lim_{x \rightarrow 0} xf(x).$$

Exercice 12. Soit f la fonction définie par $f(x) = \lfloor x \rfloor + \sqrt{x - \lfloor x \rfloor}$.

- (1) Étudier la continuité de f en 0.
- (2) Montrer que $f(x+1) = f(x) + 1$.
- (3) En déduire que f est continue sur \mathbb{R} .

Exercice 13. Soit $f : [0; 1] \rightarrow [0; 1]$ une fonction continue. Montrer que f admet au moins un point fixe.

Exercice 14. Soit $f : \mathbb{R} \rightarrow \mathbb{R}$ une fonction continue telle que, pour tout $x \in \mathbb{R}$, $f(x)^2 = 1$. Montrer que $f = 1$ ou $f = -1$.

Exercice 15. Soit f une fonction définie sur \mathbb{R} , continue en 0 et vérifiant:

$$\forall x \in \mathbb{R}, f(x) = f\left(\frac{x}{2}\right).$$

Après avoir montré que, pour tout $x \in \mathbb{R}$ et pour tout $n \in \mathbb{N}$, $f(x) = f(x/2^n)$, montrer que f est constante.

Exercice 16. Soit f la fonction définie par $f(x) = x - 2 + \ln(x)$.

- (1) Montrer que f définit une bijection de \mathbb{R}_+^* sur un intervalle à déterminer.
- (2) Montrer que la bijection réciproque f^{-1} de f vérifie $\lim_{x \rightarrow +\infty} \frac{f^{-1}(x)}{x} = 1$.

Exercice 17. Soit $f : [0; 1] \rightarrow \mathbb{R}$ une fonction continue, telle que $f(0) = f(1)$.

- (1) On veut montrer que, pour tout entier $n \geq 1$, l'équation $f(x + \frac{1}{n}) = f(x)$ admet au moins une solution. Soit $n \geq 1$. On pose, pour $x \in [0; 1 - \frac{1}{n}]$, $g(x) = f(x + \frac{1}{n}) - f(x)$.
 - (a) Calculer $\sum_{k=0}^{n-1} g\left(\frac{k}{n}\right)$.
 - (b) Conclure.
- (2) *Application.* Un cycliste parcourt 20 km en une heure.
 - (a) Montrer qu'il existe au moins un intervalle de temps de durée une demi-heure pendant lequel il a parcouru 10 km.
 - (b) Montrer qu'il existe au moins un intervalle de temps de durée 3 min pendant lequel il a parcouru 1 km.

Exercice 18. (Extrait du DM n°9, Hiver 2017) **Une fonction nulle part continue.**

On considère la fonction f définie sur \mathbb{R} par

$$f(x) = \begin{cases} 1, & \text{si } x \in \mathbb{Q} \\ 0, & \text{sinon} \end{cases}$$

- (1) En considérant la suite $a_n = \sqrt{2}/n$ et à l'aide d'un raisonnement par l'absurde, montrer que f n'est pas continue en 0.
- (2) Adapter le raisonnement pour montrer que f n'est continue en aucun point rationnel.
- (3) Soit $x \in \mathbb{R} \setminus \mathbb{Q}$.
 - (a) Montrer que la suite $x_n = \lfloor nx \rfloor / n$ a pour limite x et que tous les termes sont rationnels.
 - (b) En déduire que f n'est pas continue en x .

(Remarque: on a donc montré que la fonction f n'est continue en aucun point de \mathbb{R} .)

Exercice 19. (Extrait **ECRICOME 2001**, DM 12 Hiver 2016)

On désigne par n un entier naturel non nul et a un réel strictement positif.

On se propose d'étudier les racines de l'équation :

$$(E_n) : \frac{1}{x} + \frac{1}{x+1} + \frac{1}{x+2} + \dots + \frac{1}{x+2n} = a$$

À cet effet, on introduit la fonction f_n , de la variable réelle x définie par :

$$f_n(x) = \frac{1}{x} + \frac{1}{x+1} + \frac{1}{x+2} + \dots + \frac{1}{x+2n} - a = \sum_{k=0}^{2n} \frac{1}{x+k} - a.$$

- (1) **Étude d'un cas particulier.** Pour cette question seulement, on prend $a = \frac{11}{6}$ et $n = 1$.
 - (a) Expliciter f_1 et dresser son tableau de variations.
 - (b) Calculer $f_1(1)$, puis déterminer les racines de (E_1) , après avoir écrit l'expression de f_1 sous la forme d'une fraction dont on aura factorisé le dénominateur.
- (2) **Dénombrement des racines de (E_n) .**
 - (a) Dresser le tableau de variations de f_n .
 - (b) Justifier l'existence de racines de l'équation (E_n) et en déterminer le nombre.
- (3) **La plus grande des racines.** On note x_n la plus grande des racines de (E_n) .
 - (a) Justifier que $x_n > 0$.
 - (b) Démontrer que pour tout réel $x > 1$

$$\frac{1}{x} < \ln \frac{x}{x-1} < \frac{1}{x-1}.$$

- (c) À l'aide de la question précédente, montrer que pour tout $x > 0$, on a

$$f_n(x) - \frac{1}{x} + a < \ln \left(1 + \frac{2n}{x} \right) < f_n(x) - \frac{1}{x+2n} + a$$

puis, que

$$a - \frac{1}{x_n} < \ln \left(1 + \frac{2n}{x_n} \right) < a - \frac{1}{x_n + 2n}.$$

- (d) En utilisant l'inégalité de droite, montrer que pour tout n entier naturel non nul, on a

$$x_n > \frac{2n}{\exp a - 1}.$$

- (e) Quelle est la limite de x_n , puis la limite de $\ln \left(1 + \frac{2n}{x_n} \right)$, lorsque n tend vers $+\infty$?

- (f) En déduire que le quotient de x_n par $\frac{2n}{e^a - 1}$ tend vers 1 lorsque n tend vers $+\infty$.

Exercice 20. (D'après **EDHEC 1997**, DS 3 Hiver 2016)

Soit n un entier supérieur ou égal à 3. On considère la fonction f_n définie sur \mathbb{R}_+^* par

$$f_n(x) = x - n \ln(x).$$

- (1) **Étude de f_n .**
 - (a) Étudier f_n et dresser son tableau de variations.
 - (b) Montrer qu'il existe deux réels u_n et v_n , seules solutions de $f_n(x) = 0$, et tels que

$$0 < u_n < n < v_n.$$
- (2) **Étude de $(u_n)_{n \geq 3}$.**
 - (a) Montrer que, pour tout entier $n \geq 3$, $1 < u_n < e$.
 - (b) Montrer que $f_n(u_{n+1}) = \ln(u_{n+1})$ et en déduire que (u_n) est décroissante.
 - (c) Justifier que (u_n) converge et, à l'aide d'un raisonnement par l'absurde, déterminer sa limite.

(d) Montrer que

$$\lim_{n \rightarrow +\infty} \frac{\ln(u_n)}{u_n - 1} = 1, \quad \text{puis que} \quad \lim_{n \rightarrow +\infty} \frac{u_n - 1}{1/n} = 1.$$

(3) **Étude de** $(v_n)_{n \geq 3}$.

- (a) Déterminer la limite de (v_n) lorsque n tend vers $+\infty$.
- (b) Calculer $f_n(n \ln(n))$. En déduire que, pour tout $n \geq 3$, $n \ln(n) < v_n$.
- (c) On introduit la fonction g définie sur \mathbb{R}_+^* par $g(x) = x - 2 \ln(x)$. Étudier g et donner son signe. En déduire que, pour tout entier $n \geq 3$, $2 \ln(n) < n$.
- (d) En déduire le signe de $f_n(2n \ln(n))$ puis établir que, pour tout $n \geq 3$, $v_n < 2n \ln(n)$.
- (e) À l'aide des questions précédentes, montrer que

$$\lim_{n \rightarrow +\infty} \frac{\ln(v_n)}{\ln(n)} = 1.$$

Exercice 21. (D'après **ESCP 1998**, DS 3 Hiver 2016)

Dans tout l'exercice, n désigne un entier naturel supérieur ou égal à 2.

(1) (a) Étudier, suivant la parité de n , le tableau de variations de la fonction f_n définie sur \mathbb{R} par

$$f_n(x) = x^{n+1} + x^n.$$

(b) Montrer que dans tous les cas

$$f_n\left(-\frac{n}{n+1}\right) < 2.$$

(c) Calculer $f_n(1)$ et en déduire, suivant la parité de n , le nombre de solutions de l'équation d'inconnue x

$$x^{n+1} + x^n = 2.$$

(2) On introduit les deux matrices A et D définies par

$$A = \begin{pmatrix} 1 & 1 \\ 1 & 1 \end{pmatrix} \quad \text{et} \quad D = \begin{pmatrix} 0 & 0 \\ 0 & 2 \end{pmatrix}.$$

(a) Déterminer une matrice P telle que $AP = PD$, où P de la forme $P = \begin{pmatrix} 1 & 1 \\ x & y \end{pmatrix}$.

(b) Montrer que P est inversible et en déduire D en fonction de A , P et P^{-1} .

(3) On considère l'équation matricielle d'inconnue X matrice carrée de taille 2

$$(E_n) \quad X^{n+1} + X^n = A.$$

(a) En posant $Y = P^{-1}XP$, montrer que X solution de (E_n) est équivalent à Y solution de

$$(E'_n) \quad Y^{n+1} + Y^n = D.$$

(b) Soit Y une solution de (E'_n) . On pose

$$Y = \begin{pmatrix} a & b \\ c & d \end{pmatrix}.$$

(i) Montrer que, si Y solution de (E'_n) , alors Y et D commutent.

(ii) En déduire que $b = c = 0$.

(iii) Quelles sont les valeurs possibles de a ?

(iv) Discuter, suivant les valeurs de n , le nombre de solutions de l'équation (E_n) .

(c) On note α la solution négative de l'équation numérique $x^4 + x^3 = 2$. Déterminer les solutions de l'équation (E_3) à l'aide de α .

Exercice 22. (Extrait du DS n°3, Hiver 2017, d'après **EDHEC 2009**)

On considère la fonction f définie sur $] -\infty; 1[$ par

$$f(x) = \begin{cases} \frac{-x}{(1-x)\ln(1-x)}, & \text{si } x \neq 0 \\ 1, & \text{si } x = 0. \end{cases}$$

- (1) Montrer que f est continue sur $] -\infty; 1[$ et préciser ses limites aux bords de ce même intervalle.
- (2) (a) Étudier le signe de la quantité $\ln(1-x) + x$ et en déduire les variations de f .
 (b) Justifier alors que, pour tout $n \in \mathbb{N}^*$, il existe un unique réel $u_n \in [0; 1[$ tel que $f(u_n) = n$.
 Préciser la valeur de u_1 .
- (3) Montrer que la suite (u_n) converge et que $\lim_{n \rightarrow +\infty} u_n = 1$.
- (4) Compléter les zones en pointillés pour que le script suivant (sous SciLab) affiche une valeur approchée de u_n à 0.001 près, où n est choisi par l'utilisateur:

```
function y=f(x)
    if x==0 then
        .....
    else
        .....
    end
endfunction

n=input('n=?');

function y=g(x)
    y=f(x)-n;
endfunction

a=0.5;
b=0.999;
b=(a+b)/2;
while abs(b-a)>0.001
    if ..... then
        b=c;
    else
        .....
    end
    c=.....
end
disp(.....)
```